

## Vai domāji, vai cerēji

• • • • •	• • • • •	• • • • •	• • • • •	• • • • •	• • • • •	• • • • •	• • • • •
• 71a	• 71	• 72	• 73	• 74	• 75	• 76	• 77
• • • • •	• • • • •	• • • • •	• • • • •	• • • • •	• • • • •	• • • • •	• • • • •
• 61a	• 61	• 62	• 63	• 64	• 65	• 66	• 67
• • • • •	• • • • •	• • • • •	• • • • •	• • • • •	• • • • •	• • • • •	• • • • •
• 51a	• 51	• 52	• 53	• 54	• 55	• 56	• 57
• • • • •	• • • • •	• • • • •	• • • • •	• • • • •	• • • • •	• • • • •	• • • • •
• 41a	• 41	• 42	• 43	• 44	• 45	• 46	• 47
• • • • •	• • • • •	• • • • •	• • • • •	• • • • •	• • • • •	• • • • •	• • • • •
• 31a	• 31	• 32	• 33	• 34	• 35	• 36	• 37
• • • • •	• • • • •	• • • • •	• • • • •	• • • • •	• • • • •	• • • • •	• • • • •
• 21a	• 21	• 22	• 23	• 24	• 25	• 26	• 27
• • • • •	• • • • •	• • • • •	• • • • •	• • • • •	• • • • •	• • • • •	• • • • •
• 11a	• 11	• 12	• 13	• 14	• 15	• 16	• 17
• • • • •	• • • • •	• • • • •	• • • • •	• • • • •	• • • • •	• • • • •	• • • • •
• 1a	• 1	• 2	• 3	• 4	• 5	• 6	• 7
• • • • •	• • • • •	• • • • •	• • • • •	• • • • •	• • • • •	• • • • •	• • • • •

Jandāls Innantieši

Rīdzenieks Swedbank Dzīmakmeņi

Sīdgunda Jaunanna Dzīrnavnieki

Iecava Siguldietis Lubāna Mūri Pēda

Virpulis Jedritvai Apinītis Daugavieši

Saimē Tīngeltangels Jampadracis Ogļīte

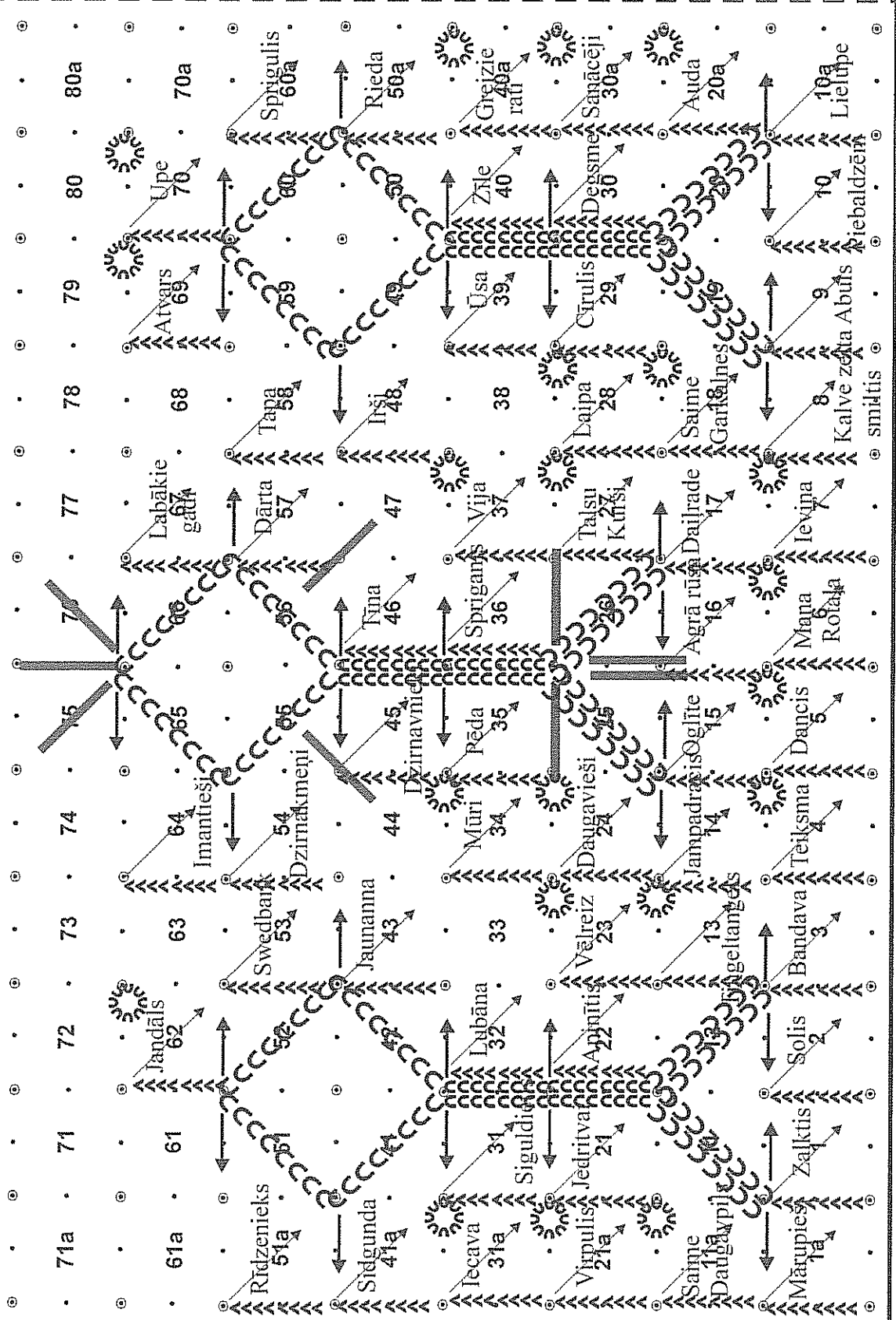
Mārupieši Zalktis Solis Teiksmā Dancis



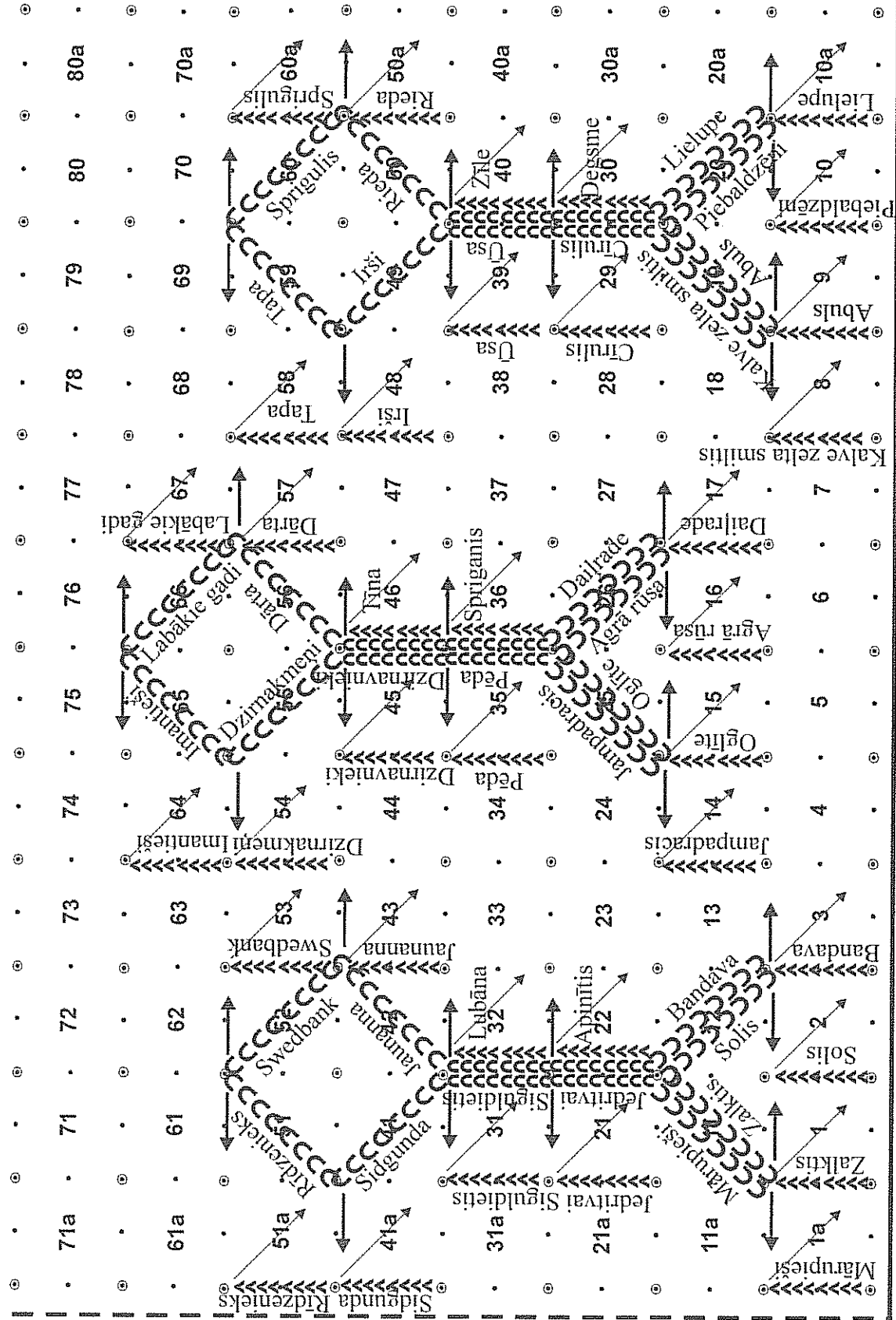




# Vai domāji, vai cerēji



Vai domāji, vai cerēji










# Vai domāji, vai cerēji



Ceturtais gājiens 16.t.. Ar 32 skrējiena soliem aizdejo uz 11. zīm.

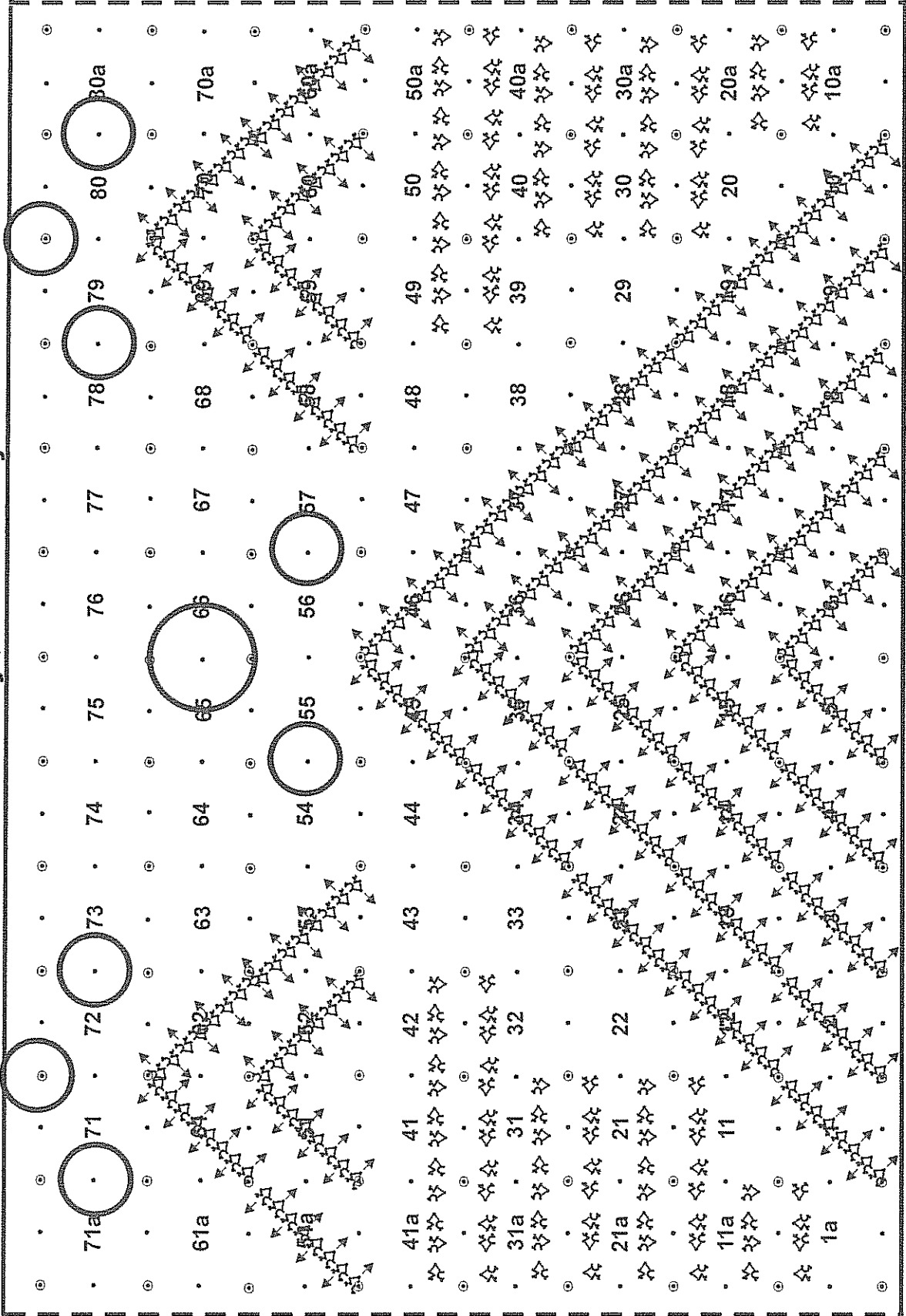


# Vai domāji, vai cerēji

71a	71	72	73	74	75	76	77	78	79	80	80a
61a	61	62	63	64	65	66	67	68	69	70	70a
Rieženieks Jendāls	Swēdbāks Dzirnāķnieki										
51a	51	52	53	54	55	56	57	58	59	60	60a
41a	41	42	43	44	45	46	47	48	49	50	50a
31a	31	32	33	34	35	36	37	38	39	40	40a
21a	21	22	23	24	25	26	27	28	29	30	30a
11a	11	12	13	14	15	16	17	18	19	20	20a
1a	1	2	3	4	5	6	7	8	9	10	10a

Piektais gājiens. 13.-16.t ar 8 skrējiena soliem izveido 12. zīm.

Vai domāji, vai cerēji



Sestais gājiens. Piramīdās stāvošie izpilda 6. kustības 1.-2.t darbību bultu virzienā, 3.-4. t. atgriežas diagonālē. 5.-8.t. atkārto 1.-4.t. darbību.





